

① $\overset{1}{C} - \overset{2}{B} - \overset{3}{B} - \overset{4}{A} - \overset{5}{B} - \overset{6}{B} - \overset{7}{B} - \overset{8}{B}$

② Figure 1: Dans le triangle rectangle ABC, d'après le théorème de Pythagore:

$$AC^2 = AB^2 + BC^2 \quad AC = 6 \times 2 = 12 \text{ cm}$$

$$12^2 = AB^2 + 6^2$$

$$144 = AB^2 + 36$$

$$AB^2 = 144 - 36$$

$$AB^2 = 108$$

$$AB = \sqrt{108}$$

$$AB \approx 10,4 \text{ cm}$$

Figure 2: Dans le triangle rectangle ABC

$$\sin \widehat{ACB} = \frac{AB}{BC}$$

$$\sin 53 = \frac{AB}{36}$$

$$AB = 36 \times \sin 53$$

$$AB \approx 28,8 \text{ cm}$$

Figure 3: Longueur d'un cercle = diamètre $\times \pi$

$$154 = AB \times \pi$$

$$AB = \frac{154}{\pi}$$

$$AB \approx 49 \text{ cm}$$

③

	France	Kénya	Autriche	Japon	Italie	USA	Allemagne
Femme	16	0	3	0	3	0	0
Homme	74	7	3	2	8	2	1

2) $90 + 7 + 6 + 2 + 11 + 2 + 1 = 119$ 119 coureurs ont participé.

3) $\frac{16}{119} \approx 0,134 \approx \frac{13,4}{100} \approx 13,4\%$ Environ 13,4% des participants étaient des femmes Françaises.

4) La probabilité que le coureur soit une femme Autrichienne est de $\frac{3}{119}$

5) $16 + 3 + 3 = 22$. Il y a 22 femmes

La probabilité que le coureur soit une femme est de $\frac{22}{119}$

6) La probabilité que le coureur soit un homme Français est de $\frac{74}{119}$

7) $119 - 2 = 117$. Il y a 117 coureurs non-Japonais.

La probabilité que le coureur ne soit pas Japonais est de $\frac{117}{119}$

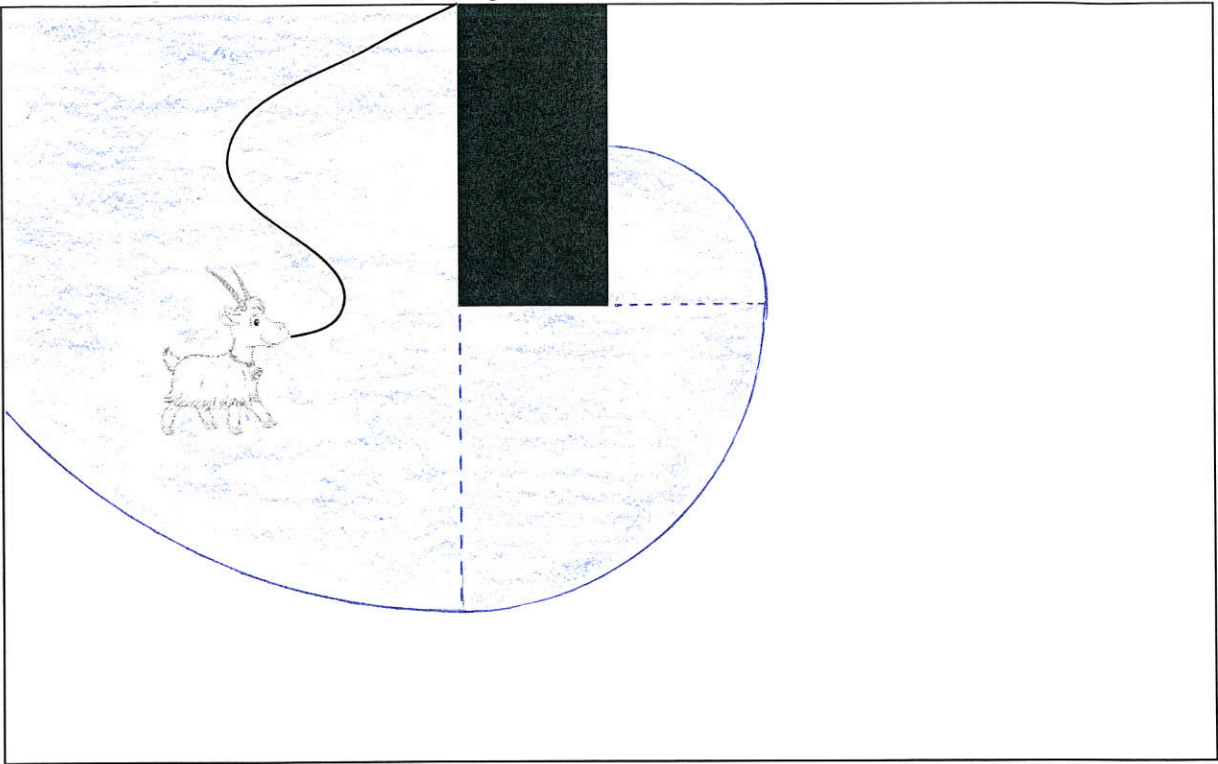
8) La probabilité d'interroger un coureur homme Français est de $\frac{74}{119}$ (voir 6)

$7 + 3 + 2 + 8 + 2 + 1 = 23$. Il y a 23 coureurs hommes non Français

La probabilité d'interroger un coureur homme non Français est de $\frac{23}{119}$

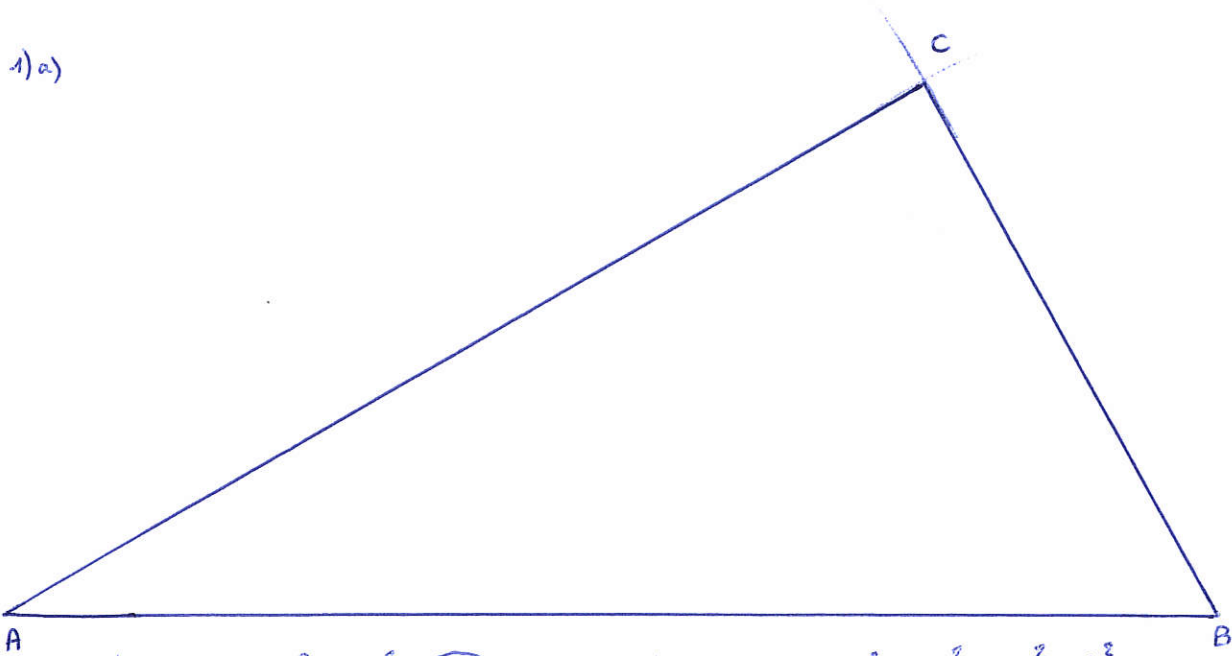
$\frac{23}{119} \times 3 = \frac{69}{119} \neq \frac{74}{119}$. Donc Margot n'a pas raison.

4



5

1) a)



b) D'une part : $AB^2 = 16^2 = 256$

D'autre part : $AC^2 + BC^2 = 14^2 + 8^2 = 196 + 64 = 260$

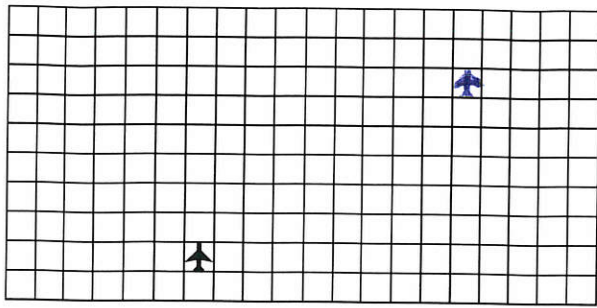
on remarque que $AB^2 \neq AC^2 + BC^2$
donc le triangle ABC n'est pas rectangle.

2) $p = 16 + 14 + 8 = 38 \text{ cm}$

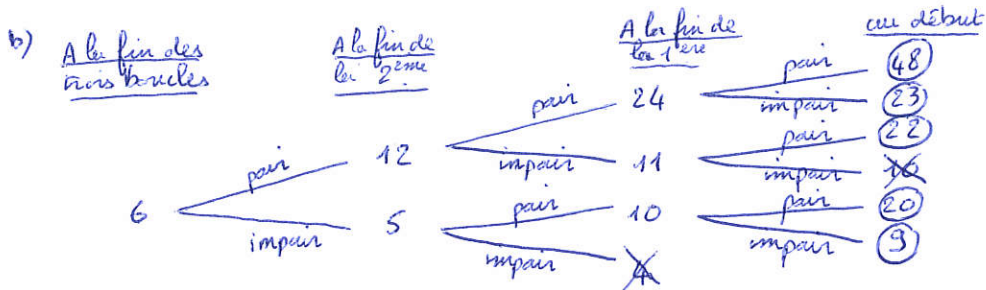
$$A_t = \sqrt{\frac{38}{2} \times \left(\frac{38}{2} - 16\right) \times \left(\frac{38}{2} - 14\right) \times \left(\frac{38}{2} - 8\right)}$$

$A_t \approx 56 \text{ cm}^2$ L'aire du triangle ABC est environ égale à 56 cm^2 .

6) 1)



2) a) lors de la première boucle, il ressort (7) ; lors de la deuxième (8) ; lors de la troisième (4)



On peut entrer 48 ; 23 ; 22 ; 20 ou 9 .

7) si l'article vaut 100 € .

- Pour le premier magasin, on aura trois articles identiques pour (200 €) . ($2 \times 100 = 200$!)
- Pour le deuxième magasin, avant la réduction les trois articles valent 300 €
 - $300 \times \frac{30}{100} = 90$ (La réduction est de 90 €)
 - $300 - 90 = 210$ Les trois articles identiques valent (210 €) après réduction

L'offre la plus avantageuse est celle du premier magasin .

8) 1) l'aire est égale à 10 cm^2 pour les valeurs (1 cm) et (3 cm)

2) l'aire est égale à une valeur (entre 12 et 13 cm^2)

3) l'aire est minimale pour (AM = 2 cm) et elle vaut (8 cm^2)

9) 1) $255 \times 24 = 6120$ La durée du vol a bien été de 6120 h .

2) $v = \frac{d}{t}$ $v = \frac{560\,000\,000}{6120}$ $v \approx 91\,500 \text{ km/h}$ La vitesse moyenne du Rover est d'environ 91 500 km/h .

3) • $v = \frac{d}{t}$ $300\,000 = \frac{248 \times 10^6}{t}$

$$t = \frac{248 \times 10^6}{300\,000} \approx 827 \text{ s} \approx 14 \text{ min}$$

Le temps du trajet des images est d'environ 14 minutes

$$7 \text{ h } 48 \text{ min} + 14 \text{ min} = 8 \text{ h } 02 \text{ min}$$

les premières images sont parvenues à 8 h 02 min .